

AMOSTRA



WWW.KITSOESCOLA.COM

ESSA É APENAS UMA
PEQUENA AMOSTRA DO
NOSSO MATERIAL.

O MATERIAL COMPLETO
CONTÉM MAIS DE **560**
PÁGINAS PARA AUXILIAR
OU REFORÇAR O
APRENDIZADO DAS
CRIANÇAS.

EU QUERO



CONTEÚDO

- ✓ NÚMEROS;
- ✓ Antecessores e Sucessores;
- ✓ Pontilhado dos Números;
- ✓ Noções de Grandezas;
- ✓ Adição, Subtração, Multiplicação e Divisão;
- ✓ Quantidade;
- ✓ Situações Problemas;
- ✓ Quantificação;
- ✓ Horas, Minutos e Segundos;
- ✓ Sistema Monetário;
- ✓ Unidades, Dezenas e Centenas;
- ✓ Números por Extenso.



EU QUERO



BÔNUS EXCLUSIVOS

✓ NÚMEROS E MÃOS:

Trabalhando de forma interativa a contagem dos números, usando as mãos como facilitador na hora de somar os dedinhos!

✓ NÚMEROS ARCO ÍRIS

Neste jogo divertido devemos encontrar a metade correta do arco íris! Associando a quantidade de sementes com os números correspondentes.

✓ FLASH CARDS: SISTEMA MONETÁRIO

FlashCards para trabalhar o sistema monetário. (Cards com dinheiro de papel e moedas).



EU QUERO ✨










QUANTAS BOLINHAS?






PINTE A QUANTIDADE ⁰⁰ 2 ⁰⁰



PREENCHA OS PONTILHADOS



ESCREVA O NÚMERO

DOS

QUATRO



MARQUE A QUANTIDADE

JOGO DA ADIÇÃO

$$33 + 13$$

$$17 + 41$$

$$45 + 37$$

$$91 + 93$$

$$57 + 71$$

$$23 + 67$$

$$72 + 29$$

$$31 + 31$$

ANTECESSORES E SUCESSORES

49

57

50

58

51

59

52

60

53

61

54

62

55

63

56

64

NOME: _____

DATA: __ / __ / __



KIT SÓ ESCOLA

DE ACORDO COM A ORDEM NÚMÉRICA, QUAL
NÚMERO VEM (ANTES E DEPOIS)?

ANTES

4

6

8

10

12

DEPOIS

15

30

45

60

75



KIT SÓ ESCOLA

NOME: _____

DATA: __/__/__



KIT SÓ ESCOLA

COMPLETE OS NÚMEROS COM ANTECESSORES E
SUCESSORES:

ANTECESSOR

SUCESSOR

10

ANTECESSOR

SUCESSOR

20

ANTECESSOR

SUCESSOR

30

ANTECESSOR

SUCESSOR

40

ANTECESSOR

SUCESSOR

50

ANTECESSOR

SUCESSOR

60



KIT SÓ ESCOLA

20 REAIS



50 REAIS



 KIT SÓ ESCOLA

100 REAIS



200 REAIS



NOME: _____

DATA: __ / __ / __



KIT SÓ ESCOLA

LIGUE O RELÓGIO DIGITAL AO HORÁRIO CORRETO MARCADO
NO RELÓGIO ANALÓGICO:


23:30




11:50



16:10



10:00



KIT SÓ ESCOLA

NOME: _____

DATA: __ / __ / __



KIT SÓ ESCOLA

MARQUE A HORA CORRETA:



17:30

15:30

06:30



16:00

03:00

17:00



02:30

01:30

14:30



15:00

12:00

04:00



KIT SÓ ESCOLA

NOME: _____


DATA: ____ / ____ / ____



KIT SÓ ESCOLA

VAMOS CONSTRUIR GRÁFICOS? COM ORIENTAÇÕES DO(A)
PROFESSOR(A), PINTE A LEGENDA DE CADA TAMANHO COM
CORES DIFERENTES E DEPOIS, COM AUXÍLIO, ANALISE E DÊ
UMA COR PARA CADA OBJETO, DE ACORDO COM SEU
TAMANHO.


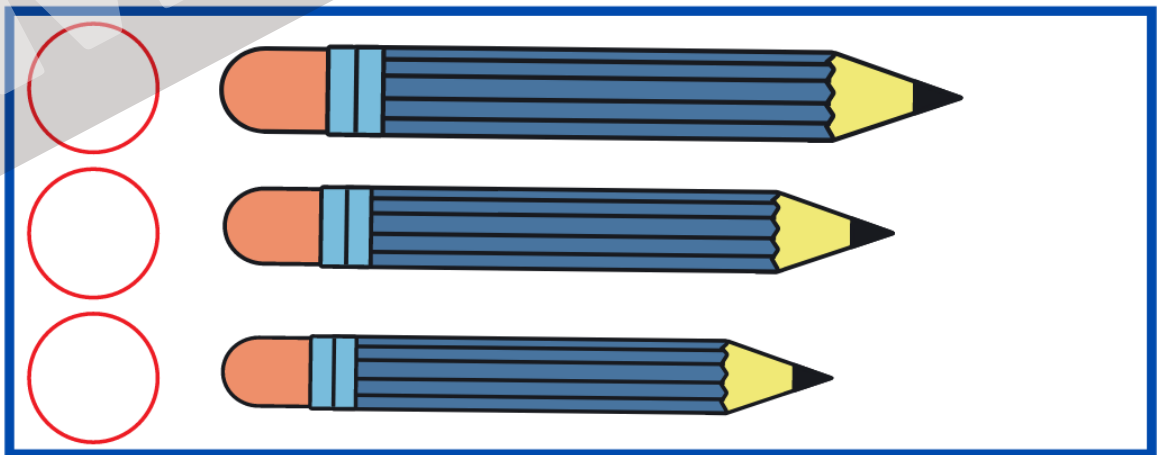
LEGENDA:




PEQUENO




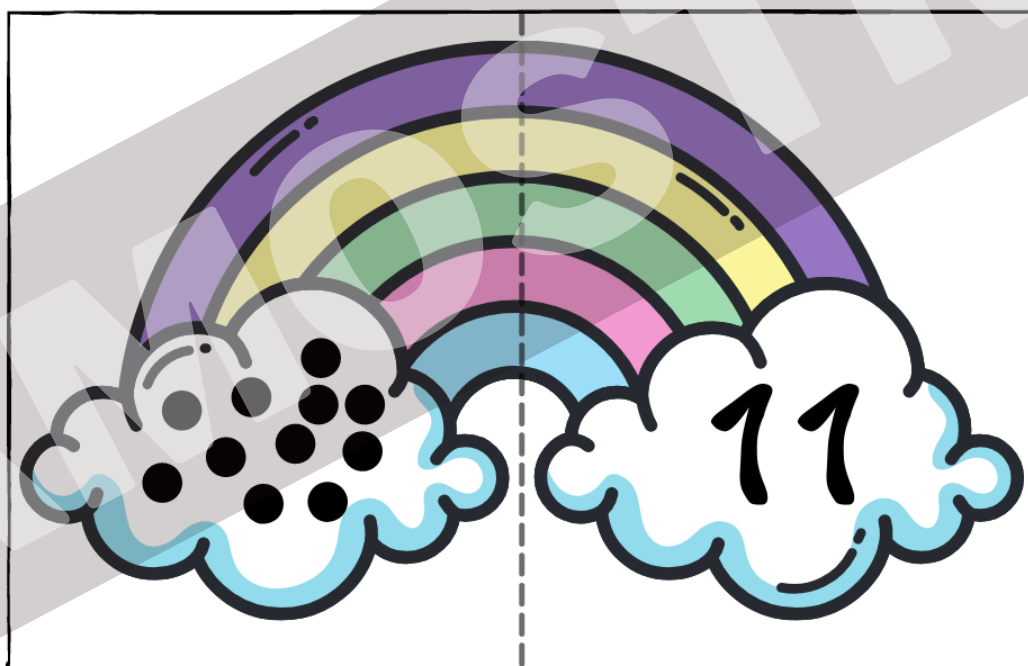

MÉDIO



GRANDE



KIT SÓ ESCOLA



NÚMEROS E MÃOS

4

QUATRO

5

CINCO



KIT SÓ ESCOLA

6

SEIS


7

SETE



KIT SÓ ESCOLA

NÚMEROS E MÃOS




OITO



NOVE

 KIT SÓ ESCOLA



DEZ

 KIT SÓ ESCOLA


NOME: _____

DATA: __/__/__

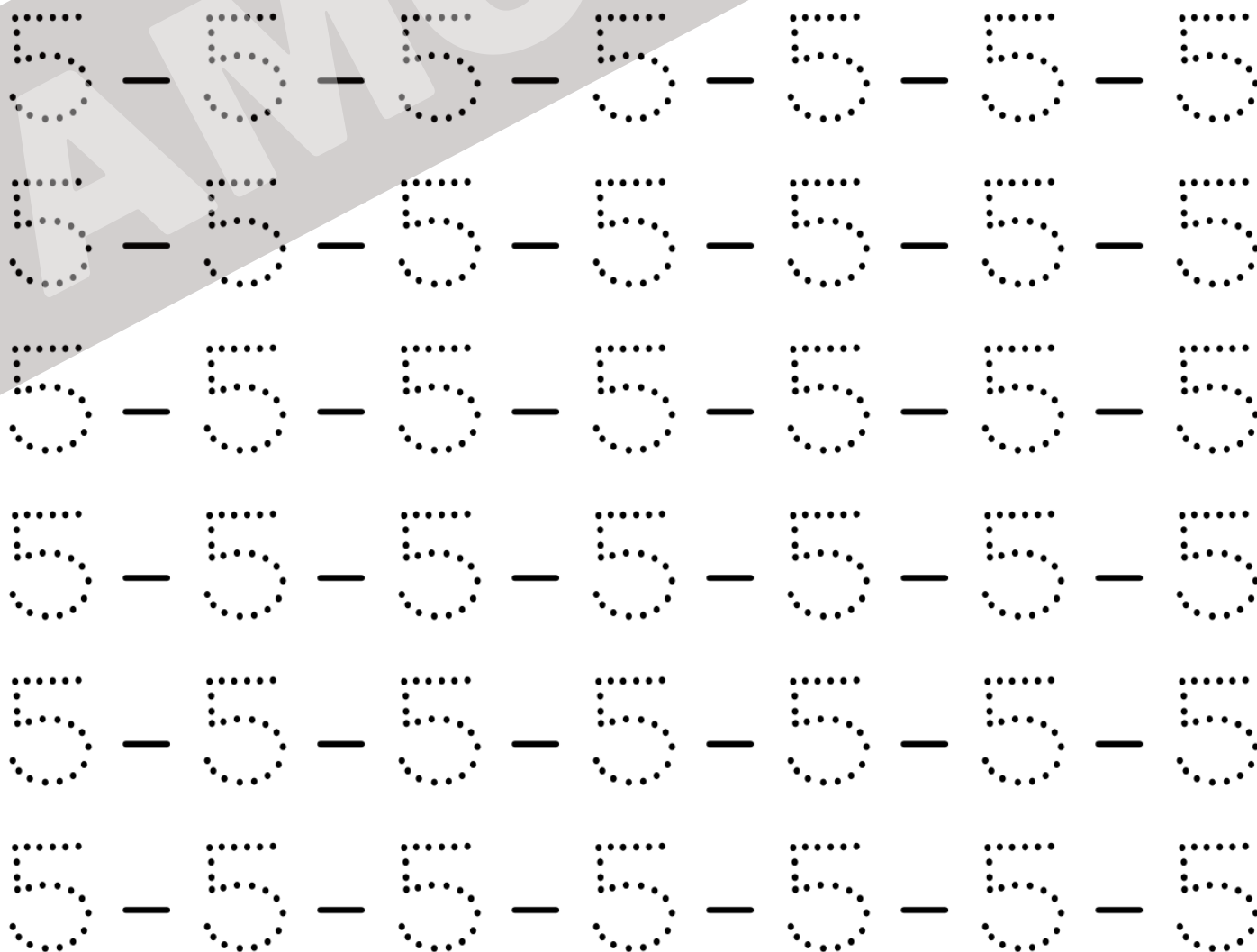



KIT SÓ ESCOLA

PONTILHADO DO 05



cinco



KIT SÓ ESCOLA

4) LUANA TEM 75 LIVROS. SUSANA TEM O TRIPLO DOS LIVROS DE LUANA. QUANTOS LIVROS SUSANA TEM?

RESULTADO

5) SE EU DESSE 15 DOCINHOS A CADA UM DOS 246 CONVIDADOS DE UMA FESTA, QUANTOS DOCINHOS EU DARIA?

RESULTADO

6) JOÃO VENDEU 235 LARANJAS PELA MANHÃ E, À TARDE, O QUÍNTUPLO DESSA QUANTIDADE. QUANTAS LARANJAS JOÃO VENDEU À TARDE?

RESULTADO

1 2 3 4 5

7) SE UM FATOR É 684 E O OUTRO É 76, QUAL SERÁ O PRODUTO DESTA MULTIPLICAÇÃO?

RESULTADO

8) EM UMA CAIXA HÁ 1450 ALFINETES. QUANTOS ALFINETES HÁ EM 72 CAIXAS?


RESULTADO

9) O SENHOR BALTAZAR COLHEU 8.500 LARANJAS EM SEU SÍTIO E RESOLVEU EMBALAR AS LARANJAS EM SACOS COM UMA DÚZIA.

A) QUANTOS SACOS ELE PRECISA PARA FAZER ISSO?

B) VÃO SOBRAR LARANJAS NÃO ENSACADAS? QUANTAS?





5

4

3



8

6

4



14

15

12





4

5

7





2

4

3



6

1

7



2

3

4










5

6

9





NOME: _____

DATA: ____ / ____ / ____



KIT SÓ ESCOLA

RESPONDA AS ALTERNATIVAS:



PEDRO



CARLA



CAIO

QUAL CRIANÇA TEM MAIS DINHEIRO?

QUEM TEM MENOS?

QUANTO CARLA TEM A MAIS QUE PEDRO?

QUANTO TÊM OS TRÊS JUNTOS?



KIT SÓ ESCOLA

NOME: _____

DATA: ____ / ____ / ____



KIT SÓ ESCOLA

VAMOS CALCULAR E REGISTRAR O VALOR EM
DINHEIRO QUE CADA CRIANÇA POSSUI?



CAIO



R\$:



PEDRO



R\$:



LUNA



R\$:



JOÃO



R\$:



KIT SÓ ESCOLA

NOME: _____

DATA: ____ / ____ / ____



KIT SÓ ESCOLA

OBSERVE AS QUANTIDADES E MARQUE A
ALTERNATIVA CORRETA:



- A) 10 REAIS
- B) 12 REAIS
- C) 13 REAIS
- D) 14 REAIS



- A) 6 REAIS
- B) 9 REAIS
- C) 8 REAIS
- D) 7 REAIS



- A) 12 REAIS
- B) 10 REAIS
- C) 15 REAIS
- D) 14 REAIS



- A) 12 REAIS
- B) 10 REAIS
- C) 11 REAIS
- D) 13 REAIS



- A) 5 REAIS
- B) 10 REAIS
- C) 8 REAIS
- D) 4 REAIS



- A) 13 REAIS
- B) 10 REAIS
- C) 11 REAIS
- D) 14 REAIS



- A) 12 REAIS
- B) 11 REAIS
- C) 21 REAIS
- D) 20 REAIS



- A) 19 REAIS
- B) 20 REAIS
- C) 30 REAIS
- D) 10 REAIS



KIT SÓ ESCOLA

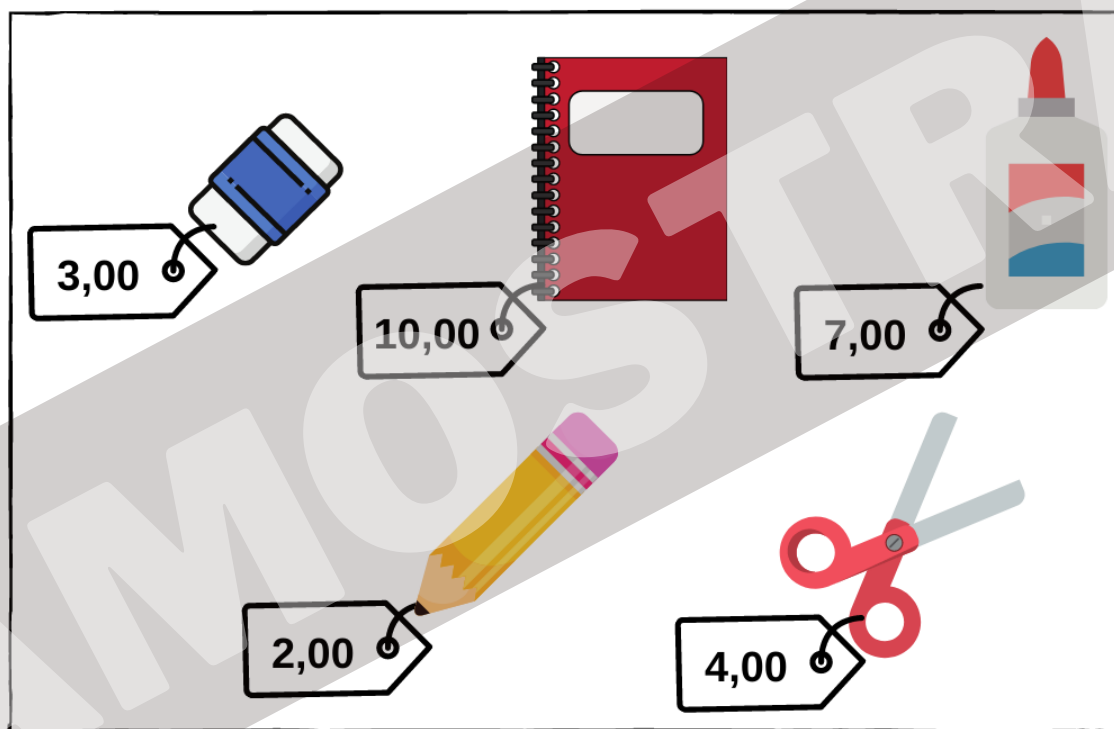
NOME: _____

DATA: ____ / ____ / ____



KIT SÓ ESCOLA

JOÃO ESTÁ SEPARANDO O DINHEIRO PARA COMPRAR SEU MATERIAL ESCOLAR. OBSERVE OS VALORES DE CADA MATERIAL E RESPONDA:



- 1 - QUAL O ITEM MAIS BARATO: _____.
- 2 - QUAL O ITEM MAIS CARO: _____.
- 3 - SE JOÃO COMPRAR O LÁPIS, A BORRACHA E A TESOURA, QUANTO ELE IRÁ GASTAR? _____.
- 4 - SE JOÃO COMPRAR TODOS OS ITENS DA LISTA, QUANTO ELE IRÁ GASTAR? _____.
- 5 - QUAL DAS OPÇÕES ABAIXO REPRESENTA A QUANTIA EM DINHEIRO QUE JOÃO GASTOU PARA COMPRAR TODOS OS ITENS?



KIT SÓ ESCOLA

NOME: _____

DATA: ____ / ____ / ____




KIT SÓ ESCOLA

VEJA OS PREÇOS DE CADA OBJETO E, DEPOIS, RESPONDA:



2,00 REAIS



30,00 REAIS



70,00 REAIS



7,00 REAIS

A) QUAL É O OBJETO MAIS BARATO?

B) QUAL É O OBJETO MAIS CARO?

C) QUAL É O PREÇO DA MOCHILA?

D) QUAL É O PREÇO DO PIÃO E DO CADERNO JUNTOS?



DESCONTO ESPECIAL

Aproveite esta oportunidade única para adquirir o **KIT MATEMÁTICA + BÔNUS** com **DESCONTO**.



COMPRAR